

ESTADO DO MARANHÃO
PREFEITURA MUNICIPAL DE PRIMEIRA CRUZ
CONCURSO PÚBLICO PARA PROVIMENTOS DE CARGOS



CARGO

MOTORISTA

TURNO: MANHÃ

CADERNO DE PROVA OBJETIVA

Leia atentamente as instruções abaixo.

01- Você recebeu do fiscal o seguinte material:

a) Este **Caderno**, com **40 (quarenta) questões** da Prova Objetiva, sem repetição ou falha, conforme distribuição abaixo. Examine se a prova está completa, se há falhas ou imperfeições gráficas que causem dúvidas.

| Língua Portuguesa | Matemática | Informática | Conhec. Específicos |
|-------------------|------------|-------------|---------------------|
| 10 | 05 | 05 | 20 |

02- A prova terá duração de **3 (três horas)**.

03- No **Cartão de Respostas**, a marcação da alternativa correta deve ser feita cobrindo a letra e preenchendo todo o espaço interno do quadrado, com caneta esferográfica de tinta na cor **azul** ou **preta**, de forma contínua e densa.

Exemplo:



05- Para cada uma das questões objetivas, são apresentadas **4 (quatro) alternativas** classificadas com as letras **(A, B, C, D)**, mas só uma responde adequadamente à questão proposta. Você só deve assinalar **uma alternativa**. A marcação em mais de uma alternativa anula a questão, mesmo que uma das respostas esteja correta.

06- **Será eliminado** do Concurso Público o candidato que:

a) Utilizar ou consultar cadernos, livros, notas de estudo, calculadoras, telefones celulares, pagers, walkmans, réguas, esquadros, transferidores, compassos, MP3, Ipod, Ipad e quaisquer outros recursos analógicos.

b) Ausentar-se da sala, a qualquer tempo, portando o **Cartão de Respostas**.

Observações: Por motivo de segurança, o candidato só poderá retirar-se da sala após 1 (uma) hora a partir do início da prova.

5.11.1. O candidato somente poderá levar o Caderno de Questões caso saia da sala de aplicação de sua prova nos últimos **30 (trinta) minutos**.

NOME DO (A) CANDIDATO (A): _____



MAIS INFORMAÇÕES:

Internet:

www.institutomachadodeassis.com.br

Telefone: (86) 3303-3146

E-mail: ima.primeiracruz2015@outlook.com

RASCUNHO

INSTITUTO MACHADO DE ASSIS – IMA

CONCURSO PÚBLICO PREFEITURA MUNICIPAL PRIMEIRA CRUZ-MA

| | | | | | | | | | | | | | | | | | | | |
|----|----|----|----|----|----|----|----|----|----|----|----|----|----|----|----|----|----|----|----|
| 01 | 02 | 03 | 04 | 05 | 06 | 07 | 08 | 09 | 10 | 11 | 12 | 13 | 14 | 15 | 16 | 17 | 18 | 19 | 20 |
| | | | | | | | | | | | | | | | | | | | |
| 21 | 22 | 23 | 24 | 25 | 26 | 27 | 28 | 29 | 30 | 31 | 32 | 33 | 34 | 35 | 36 | 37 | 38 | 39 | 40 |
| | | | | | | | | | | | | | | | | | | | |

FOLHA DE ANOTAÇÃO DO GABARITO - ATENÇÃO: Esta parte somente deverá ser destacada pelo fiscal da sala, após o término da prova

INSTITUTO
MACHADO DE ASSIS



LÍNGUA PORTUGUESA

QUESTÕES DE 1 A 10

INSTRUÇÃO:

Para responder a essas questões, assinale APENAS UMA ÚNICA alternativa correta e marque o número correspondente na Folha de Respostas.

AS QUESTÕES DE 1 A 08 ESTÃO RELACIONADAS AO TEXTO ABAIXO

TEXTO

Errata de pé de página

1 A vida deveria nos oferecer um lugarzinho no rodapé da nossa história pessoal para
2 eventuais erratas, como em tese de doutorado (as que não são plágio). Pelas vezes em que, na
3 infância, a gente foi bobo, foi ingênuo, foi indesculpavelmente romântico, cego e teimoso, devia
4 haver errata possível.

5 Devia haver erratas que anulassem bobagens adultas: botei fora aquela
6 oportunidade, não cuidei da minha grana, fui onipotente... Profissionalmente não me preparei,
7 não me preveni, não refleti, não entendi nada, tomei as piores decisões. Ah, que bom seria se
8 essas trapalhadas pudessem ser anuladas com uma boa errata. Em geral, não podem.

9 Devia haver uma errata para quando, com mais de 60 anos, tendo visto, lido e vivido
10 bastante coisa nesse mundo, a gente ainda banca o bobão.

11 Minha esperança (tenho uma boa reserva dela) é que pessoas começam a reagir.
12 Então alguém começa a fazer alguma coisa. Alguém, muito aos pouquinhos, se sente
13 responsável e fala. Alguém mostra que não podemos aceitar o que acontece nas ruas, nas casas,
14 nos transportes aéreos, nos ministérios e no Senado, na vida em geral — e que só reclamar não
15 adianta. E preciso denunciar, testemunhar, expor-se, mesmo correndo o perigo de sentir-se
16 isolado.

17 Ainda que o clima em geral seja de euforia imediatista, há situações gravíssimas,
18 claras ou ocultas, nos mais diversos territórios de nossa vida, que merecem mais do que breve
19 pensamento e falam de um evidente apagão moral. Por todas as vezes que desviamos o olhar
20 lúcido ou recolhemos o dedo denunciador, pagaremos talvez num futuro não muito distante —
21 um alto preço, durante um tempo incalculavelmente longo. E não haverá erratas.

LUFT, Lya. Errata de pé de página. Veja, 2015. Adaptado.

**QUESTÃO 01**

De acordo com o texto,

- A) os efeitos das ações humanas, em relação ao tempo, são irreversíveis e, portanto, indelévels.
- B) o ser humano, com o amadurecimento, já não comete mais tolices nem se deixa enganar facilmente.
- C) os atos impensados que a pessoa comete ao logo da vida podem ser retificados com uma mudança comportamental.
- D) as pessoas, quando movidas pelo medo e pela omissão, acabam se livrando de muitos despropósitos que, costumeiramente, atingem os insensatos.

QUESTÃO 02

O texto se constrói a partir de uma:

- A) constatação, cuja logicidade é questionada ao longo da argumentação feita.
- B) insinuação que, no desenvolvimento do tema trabalhado, é contestada.
- C) hipótese, que é abonada e defendida do princípio ao fim.
- D) vontade manifesta inteiramente inviável na prática.

QUESTÃO 03

Nesse texto, a articulista,

- A) não revela preocupação com o destino da coletividade em face da inércia da maioria das pessoas diante da crise moral que se abateu sobre o Brasil.
- B) conclama a população brasileira a agir frente aos descabros que ocorrem no país, para que não se perca de vez os rumos do crescimento em todos os sentidos.
- C) acredita que se vive um momento de quietação, sinalizando, de uma forma ou de outra, que não se tem muito mais a temer, porque as pessoas estão começando a posicionar-se.
- D) defende a ideia de que o ser humano deve se portar com sensatez ao longo de sua existência, para não precisar de "erratas" em nenhuma das etapas por que tem de passar durante a vida na Terra.

QUESTÃO 04

Sobre esse texto, é verdadeiro o que se afirma na alternativa:

- A) A linguagem nele usada é predominantemente coloquial.
- B) A repetição do pronome indefinido "alguém", no quarto parágrafo, poderia ser evitada, uma vez que empobrece o discurso do enunciador.
- C) Os termos "mais" e "mais", presentes no último parágrafo do texto, expressam a mesma ideia nos contextos em que se encontram.
- D) Os vocábulos "territórios" e "apagão", constantes no parágrafo final, conotam, respectivamente, segmentação e dificuldade.

QUESTÃO 05

A alternativa em que o emprego do recurso linguístico que aparece nesse texto está devidamente explicado é a

- A) "deveria", em "A vida deveria nos oferecer um lugarzinho no rodapé da nossa história pessoal" (L.1), expressa uma ação incerta no passado.
- B) "como", em "como em tese de doutorado" (L.2), exprime, nesse caso, a ideia de conformidade.
- C) "Ainda que", em "Ainda que o clima em geral seja de euforia imediatista" (L.17), é uma locução conjuntiva que pode ser substituída, sem prejuízo semântico, por Embora.
- D) "situações gravíssimas", em "há situações gravíssimas" (L.17), é uma expressão em que o deslocamento do termo "gravíssimas" para antes do substantivo altera o seu valor semântico.

QUESTÃO 06

Em, "Devia haver erratas" (L.5), se for feita a troca do verbo haver por existir, ter-se-á a seguinte reescrita:

- A) Deviam existirem erratas.
- B) Deviam existir erratas.
- C) Devia existir erratas.
- D) Devia existirem erratas.



QUESTÃO 07

Sobre os sinais de pontuação usados no texto, é correto afirmar:

- A) As vírgulas da linha 5 são facultativas.
- B) O travessão da linha 14 não pode ser substituído por parênteses.
- C) Os dois pontos da linha 6 introduzem uma enumeração.
- D) As vírgulas da linha 18 podem ser substituídas indica a omissão de uma palavra.

QUESTÃO 09

No texto em quadrinhos, palavras e imagens formam um todo significativo. Esses quadrinhos expressam:

- A) A sinceridade como desestabilizadora das relações interpessoais.
- B) Um pedido de ajuda ao semelhante para honrar um compromisso.
- C) Uma crítica à falta de compreensão do ser humano para com o seu próximo.
- D) A constatação de que, às vezes, a pessoa precisa ouvir umas verdades para reagir diante dos fatos.

QUESTÃO 08

A alternativa em que a substituição, proposta à direita mantém o significado original do termo transcrito é:

- A) "ingênuo" (L.3) - incauto.
- B) "onipotente" (L.6) — sapiente.
- C) "euforia" (L.17) — tristeza.
- D) "lúcido" (L.20) — senil

QUESTÃO 10

A análise da fala do último quadrinho permite afirmar:

- A) O termo "que", em, cada ocorrência, possui um valor morfológico diferente.
- B) A palavra "única" é um modificador de "coisa", assim como a locução "do mundo" é um complemento do mesmo nome.
- C) A forma verbal "esvazia" está no singular, concordando com o sujeito a que se refere, isto é, com o termo "mundo", representado por "que".
- D) O verbo "levar" apresenta-se com a mesma regência da forma verbal "esvazia", já que o "que", antecedente da oração de que faz parte, exerce a função de complemento verbal.

AS QUESTÕES 9 E 10 ESTÃO RELACIONADAS À TIRINHA ABAIXO

TEXTO:



LAVADO, Joaquin Salvador. Toda Mafalda. São Paulo: Martins Fontes, 2000. p. 12.

**MATEMÁTICA****QUESTÕES DE 11 A 15****QUESTÃO 11**

Cálculos

Sendo $\frac{a^5}{b^5} = \frac{1}{32}$ e $\frac{c^3}{d^3} = \frac{8}{27}$ Logo $\frac{a^2c}{b^2d}$ será:

- A) $\frac{1}{6}$
- B) $\frac{1}{8}$
- C) $\frac{2}{27}$
- D) $\frac{8}{256}$

QUESTÃO 12

A quantidade de números inteiros positivos pertencente a equação $2x+3=6$ é:

- A) Nenhum
- B) Um
- C) $3/2$
- D) Dois

QUESTÃO 13

A raiz quadrada de 4% é:

- A) 2%
- B) 20%
- C) 40%
- D) 0,04%

QUESTÃO 14

A soma de $0,0004 \text{ dam}^2 + 200 \text{ cm}^2 + 3 \text{ dm}^2$ equivale a:

- A) $4,032 \text{ m}^2$
- B) $40,32 \text{ m}^2$
- C) $4,0032 \text{ m}^2$
- D) $0,09 \text{ m}^2$

QUESTÃO 15

A área de um retângulo mede 48 m^2 e o seu perímetro mede 28 m . Os seus lados serão:

- A) 4 m e 12 m
- B) 6 m e 8 m
- C) 8 m e 12 m
- D) $4,5 \text{ m}$ e $7,5 \text{ m}$



INFORMÁTICA

QUESTÕES DE 16 A 20

QUESTÃO 16

A menor unidade de informação armazenável em um computador é o algarismo binário ou dígito binário, também chamado de:

- A) bit
- B) byte
- C) bity
- D) bite

QUESTÃO 17

É responsável por interpretar e comandar a sequência de etapas para execução de uma determinada operação e realizar operações matemáticas (aritméticas ou lógicas) com dados. Ou seja, realizar o ciclo completo de uma instrução de máquina.

Isso é função:

- A) Da memória ROM
- B) Da memória RAM
- C) Do HD
- D) Do processador

QUESTÃO 18

No Microsoft Office Access 2010, a função da tecla **F11** é:

- A) Alternar entre as janelas abertas.
- B) Ativar/desativar o Painel de Navegação.
- C) Verificar a ortografia
- D) Exibir uma folha de propriedades no modo Desingn.

QUESTÃO 19

Observe a imagem abaixo do Microsoft Excel 2010 e responda:

| D10 | | f _x | | | | |
|-----|---|----------------|-------------|-----|------------|---|
| | A | B | C | D | E | F |
| 1 | | | | | | |
| 2 | | | | | | |
| 3 | | | Produtos | | | |
| 4 | | | Televisores | Som | Computador | |
| 5 | | Janeiro | 150 | 50 | 200 | |
| 6 | | Fevereiro | 100 | 75 | 250 | |
| 7 | | Março | 170 | 75 | 220 | |
| 8 | | Abril | 150 | 80 | 230 | |
| 9 | | Maio | 195 | 90 | 250 | |
| 10 | | Total: | | | | |
| 11 | | | | | | |

Ao digitar a fórmula **=SOMA(C5:E7)** na célula D10 e apertar tecla *Enter* o resultado será:

- A) 250
- B) 400
- C) 1290
- D) 425

QUESTÃO 20

Para utilizar toda a capacidade de processamento que o Hardware fornece, precisa-se de Software. São tipos de software, EXCETO:

- A) Software Básico
- B) Software Utilitários
- C) Software Aplicativos
- D) Software Físico.

Área livre



CONHECIMENTOS ESPECÍFICOS

QUESTÕES DE 21 A 40

QUESTÃO 21

O condutor de veículo destinado à condução de escolares deve satisfazer os seguintes requisitos abaixo, **EXCETO**.

- A) Ter idade superior a dezoito anos;
- B) Ser habilitado na categoria D;
- C) Não ter cometido nenhuma infração grave ou gravíssima, ou ser reincidente em infrações médias durante os doze últimos meses;
- D) Ser aprovado em curso especializado, nos termos da regulamentação do CONTRAN.


QUESTÃO 22


Sobre a mecânica de automóveis todas as afirmações abaixo estão corretas, **EXCETO**.


- A) Em uma caixa de mudanças mecânica, determinadas marchas arranham quando trocadas. A causa provável são os garfos desgastados.
- B) Os tipos de tração encontradas nos veículos automotores são dianteira e traseira
- C) O diferencial tem a função de compensar as diferentes rotações das rodas de tração nas curvas.
- D) A função dos amortecedores, nos conjuntos de suspensões, é diminuir os movimentos oscilatórios das molas.


QUESTÃO 23

Sobre as placas de sinalização todas as definições estão corretas, **EXCETO**.

- A)  É uma placa de regulamentação que significa dê a preferência.

- B)  É uma placa de Serviços auxiliares que significa Transporte sobre Águas.

- C)  É uma placa de advertência que significa confluência à esquerda.

- D)  É uma placa de regulamentação que significa Veículos Lentos. Use Faixa da Direita.

QUESTÃO 24

Dirigir faz parte da sua vida. Mas cada vez que você entra num veículo surgem riscos de acidentes, riscos à sua vida e à de outras pessoas. Em ferimentos abdominais abertos em consequência de um acidente de trânsito, o socorrista deverá:

- A) Colocar os órgãos expostos no interior da cavidade abdominal e cobri-la com pano estéril.
- B) Limpar os órgãos expostos e cobri-los com pano estéril.
- C) Manter a vítima deitada, evitando tocar nos órgãos expostos.
- D) Transportar imediatamente a vítima para o hospital mais próximo no primeiro veículo que passar pelo local do acidente.

QUESTÃO 25

O sistema de direção é composto por alguns componentes ou conjunto de componentes que formam um sistema simples. O sistema pode ser mecânico ou do tipo servo assistido com o auxílio de bomba hidráulica ou motor elétrico. Seus principais componentes são os citados abaixo, **EXCETO**.

- A) Volante (de direção) e Coluna (Varão de direção)
- B) Caixa de Direção e Braço de Direção
- C) Barra de Direção e Terminais de Direção
- D) Rótulas de Direção (Rolamentos) e alternador de Ignição.

QUESTÃO 26

Que tipo penalidade sofrerá o condutor que envolvido em acidente com vítima deixar:

- I. De prestar ou providenciar socorro à vítima, podendo fazê-lo;
- II. De adotar providências, podendo fazê-lo, no sentido de evitar perigo para o trânsito no local;
- III. De preservar o local, de forma a facilitar os trabalhos da polícia e da perícia;
- IV. De adotar providências para remover o veículo do local, quando determinadas por policial ou agente da autoridade de trânsito;
- V. De identificar-se ao policial e de lhe prestar informações necessárias à confecção do boletim de ocorrência.

- A) Multa (cinco vezes) e suspensão do direito de dirigir;
- B) Multa (dez vezes), suspensão do direito de dirigir e apreensão do veículo;
- C) Multa (cinco vezes) e apreensão do veículo
- D) Multa (três vezes) e apreensão do veículo



QUESTÃO 27

Em um acidente automobilístico, o motorista de um dos veículos ficou preso ao cinto de segurança. Para ajudar a vítima, você condutor, que está passando no local e foi chamado para ajudar somente deverá soltá-lo, se o cinto de segurança estiver.

- A) Impedindo sua saída do veículo.
- B) Dificultando sua respiração.
- C) Impedindo a movimentação da cabeça.
- D) Provocando dor em seus membros inferiores.

QUESTÃO 28

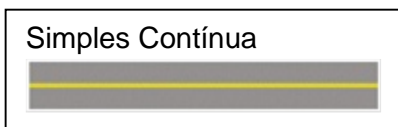
Todo veículo automotor, elétrico, articulado, reboque ou semirreboque, deve ser registrado perante o órgão executivo de trânsito do Estado ou do Distrito Federal, no Município de domicílio ou residência de seu proprietário, na forma da lei. Será obrigatória a expedição de novo Certificado de Registro de Veículo quando, **EXCETO**.

- A) For transferida a propriedade;
- B) O proprietário mudar o Município de domicílio ou residência;
- C) For alterada qualquer característica do veículo e houver mudança de categoria.
- D) Houver débitos fiscais e de multas de trânsito e ambientais, vinculadas ao veículo, independentemente da responsabilidade pelas infrações cometidas.

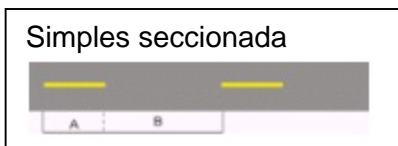
QUESTÃO 29

A Sinalização horizontal é um tipo de sinalização viária que se caracteriza por utilizar linhas, marcações, símbolos e legendas, pintados ou apostos sobre o pavimento das vias. Sobre as linhas de sinalização todas as definições estão corretas, **EXCETO**.

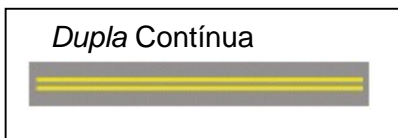
- A) *Não permite ultrapassagem e deslocamentos laterais*



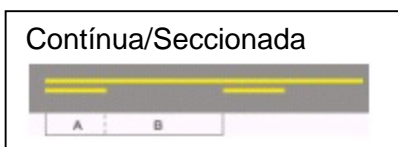
- B) *Permite ultrapassagem e deslocamentos laterais*



- C) *Permite ultrapassagem e deslocamentos laterais*



- D) *-Permite a ultrapassagem para um único sentido*



QUESTÃO 30

No homicídio culposo cometido na direção de veículo automotor, a pena é aumentada de 1/3 (um terço) à metade, se o agente estiver incluído em todas as situações abaixo, **EXCETO**.

- A) Não possuir Permissão para Dirigir ou Carteira de Habilitação;
- B) Praticá-lo em faixa de pedestres ou na calçada;
- C) Prestar socorro, quando possível fazê-lo sem risco pessoal, à vítima do acidente;
- D) No exercício de sua profissão ou atividade, estiver conduzindo veículo de transporte de passageiros.

QUESTÃO 31

O condutor deve conhecer o funcionamento do seu veículo e seus equipamentos. Sobre a finalidade dos equipamentos abaixo todas as alternativas estão corretas, **EXCETO**.

- A) A finalidade da válvula termostática é impedir a passagem de água do radiador para o carburador
- B) A finalidade do filtro de combustível é reter as impurezas do combustível
- C) A finalidade do subsistema arrefecimento é manter a temperatura ideal de trabalho do motor
- D) A finalidade do carburador é misturar o ar com o combustível na proporção recomendada.

QUESTÃO 32

Os veículos são divididos em duas partes fundamentais: são chamadas de peso suspenso e não suspenso. Os principais componentes do sistema de suspensão são os citados abaixo, **EXCETO**.

- A) Molas e Amortecedores;
- B) Barras estabilizadoras e Pinos esféricos (pivôs);
- C) Eixo cardã e Diferencial
- D) Bandejas de suspensão.







QUESTÃO 33

De acordo com o Art. 148 do Código de Trânsito Brasileiro - Os exames de habilitação, exceto os de direção veicular, poderão ser aplicados por entidades públicas ou privados credenciados pelo órgão executivo de trânsito dos Estados e do Distrito Federal, de acordo com as normas estabelecidas pelo CONTRAN. Todos os parágrafos relacionados a este artigo estão corretos, **EXCETO**.

- A) § 1º - A formação de condutores deverá incluir, obrigatoriamente, curso de direção defensiva e de conceitos básicos de proteção ao meio ambiente relacionados com o trânsito.
- B) § 2º - Ao candidato aprovado será conferida Permissão para Dirigir, com validade de 1 ano e seis meses.
- C) § 3º - A Carteira Nacional de Habilitação será conferida ao condutor no término de um ano, desde que o mesmo não tenha cometido nenhuma infração de natureza grave ou gravíssima, ou seja, reincidente em infração média.
- D) § 4º - A não obtenção da Carteira Nacional de Habilitação, tendo em vista a incapacidade de atendimento do disposto no parágrafo anterior, obriga o candidato a reiniciar todo o processo de habilitação.

QUESTÃO 34

Os gestos dos agentes de trânsito correspondem a movimentos convencionais de braço, para orientar e indicar o direito de passagem dos veículos. A sinalização dos agentes prevalece sobre as regras de circulação e as normas definidas por outros sinais de trânsito. Sobre essa sinalização todas as alternativas estão corretas, **EXCETO**.

- A)  Ordem de parada obrigatória para todos os veículos. Quando executada em interseções, os veículos que já se encontrem nela não são obrigados a parar.
- B)  Ordem de parada para todos os veículos que venham de direções que cortem ortogonalmente a direção indicada pelos braços estendidos, qualquer que seja o sentido do seu deslocamento.
- C)  Ordem de diminuição da velocidade.
- D)  Ordem de seguir.

QUESTÃO 35

A autoridade de trânsito ou seus agentes, na esfera das competências estabelecidas no Código de Trânsito Brasileiro e dentro de sua circunscrição, deverá adotar as seguintes medidas administrativas, **EXCETO**.

- A) Retenção e remoção do veículo;
- B) Licenciamento da Carteira Nacional de Habilitação e da Permissão para dirigir
- C) Recolhimento do Certificado de Registro e do Certificado de Licenciamento Anual;
- D) Realização de teste de dosagem de alcoolemia ou perícia de substância entorpecente ou que determine dependência física ou psíquica;

QUESTÃO 36

A hemorragia abundante e não controlada pode causar a morte em 3 a 5 minutos. Por isso é importante que o condutor tenha conhecimento sobre elas, pois o mesmo pode se deparar com um acidente que tenha vítimas com hemorragias. Sobre elas todas as afirmações estão corretas, **EXCETO**.

- A) A hemorragia externa ocorre devido a ferimentos abertos: arterial, venoso ou capilar. Quanto ao tratamento no estancamento do sangue, deve ser observada a pressão direta sobre a lesão, elevação e pressão dos pontos carteriais.
- B) Geralmente não é visível, porém é bastante grave, pois pode provocar choque e levar a vítima à morte. Trata-se da hemorragia interna.
- C) Quando existe hemorragia interna, a identificação se faz por meio de sinais e sintomas clínicos. Constitui sinal de hemorragia pulso rápido e fraco.
- D) Em caso de hemorragia use torniquete – inclusive em perna e/ou braço amputado, esmagado ou dilacerado.

QUESTÃO 37

Para a perfeita condução de um veículo, é necessário conhecermos um pouco dos sistemas que o compõe. Sobre esses sistemas todas as afirmações abaixo estão corretas, **EXCETO**.

- A) O sistema responsável por transmitir a força do motor até as rodas é o de Direção
- B) O sistema responsável pelo acionamento dos equipamentos de sinalização do veículo é o sistema elétrico
- C) O sistema que absorve os impactos da roda com o solo, evitando que eles se reproduzam diretamente nos ocupantes do veículo é o sistema de Suspensão.
- D) O sistema do motor que tem como função garantir que a temperatura de serviço no interior do motor nunca ultrapasse um valor superior pré-determinado, a fim de evitar o superaquecimento das peças e dos lubrificantes e o arrefecimento.



QUESTÃO 38

Sobre o licenciamento de veículos de acordo com o Código de Trânsito Brasileiro todas as afirmações abaixo estão corretas, **EXCETO**.

- A) O veículo somente será considerado licenciado estando quitados os débitos relativos a tributos, encargos e multas de trânsito e ambientais, vinculados ao veículo, independentemente da responsabilidade pelas infrações cometidas.
- B) É obrigatório o porte do Certificado de Licenciamento Anual.
- C) Os veículos novos estão sujeitos ao licenciamento e terão sua circulação regulada pelo CONTRAN durante o trajeto entre a fábrica e o Município de destino.
- D) O primeiro licenciamento será feito simultaneamente ao registro.

QUESTÃO 39

Leia e analise as informações abaixo, elas se referem a uma das peças dos automóveis.





Ela é uma das principais peças dos automóveis, pois é nele que quase todas as partes dos carros serão afixadas. Existem 2 tipos principais dessa peça, os convencionais que são formados geralmente por duas barras de uma placa de metal (utilizados em veículos de carga) e integrado (utilizado em veículos de passeio) o qual em caso de uma colisão do carro, o mesmo se deforma de modo que absorva todo o impacto.

A que peça as informações acima estão se referindo?

- A) Embreagem
- B) Chassi
- C) Catalisador
- D) Barra Estabilizadora

QUESTÃO 40

Observe a sinalização horizontal abaixo todas as indicações estão corretas, **EXCETO**.

- A)  **Linhas de divisão de fluxos opostos (amarela) Permitindo ultrapassagem**
- B)  **Linhas de divisão de fluxos de mesmo sentido (branca) Não permitindo ultrapassagem e transposição de faixa de trânsito**
- C)  **Linhas de divisão de fluxos de mesmo sentido (branca) Permitindo ultrapassagem e transposição de faixa de trânsito**
- D)  **Indica a separação de fluxo de tráfego de mesmos sentidos.**