


ESTADO DO MARANHÃO
PREFEITURA MUNICIPAL DE PRIMEIRA CRUZ
CONCURSO PÚBLICO PARA PROVIMENTOS DE CARGOS



CARGO

**PROFESSOR ENSINO
 FUNDAMENTAL –
 ANOS FINAIS
 (GEOGRAFIA)**

TURNO: MANHÃ

CADERNO DE PROVA OBJETIVA

Leia atentamente as instruções abaixo.

01- Você recebeu do fiscal o seguinte material:

a) Este **Caderno**, com **40 (quarenta) questões** da Prova Objetiva, sem repetição ou falha, conforme distribuição abaixo. Examine se a prova está completa, se há falhas ou imperfeições gráficas que causem dúvidas.

Língua Portuguesa	Informática	Conhec. Pedagógicos	Conhec. Específicos
10	05	05	20

02- A prova terá duração de **3 (três horas)**.

03- No **Cartão de Respostas**, a marcação da alternativa correta deve ser feita cobrindo a letra e preenchendo todo o espaço interno do quadrado, com caneta esferográfica de tinta na cor **azul** ou **preta**, de forma contínua e densa.

Exemplo:



05- Para cada uma das questões objetivas, são apresentadas **4 (quatro) alternativas** classificadas com as letras **(A, B, C, D)**, mas só uma responde adequadamente à questão proposta. Você só deve assinalar **uma alternativa**. A marcação em mais de uma alternativa anula a questão, mesmo que uma das respostas esteja correta.

06- **Será eliminado** do Concurso Público o candidato que:

a) Utilizar ou consultar cadernos, livros, notas de estudo, calculadoras, telefones celulares, pagers, walkmans, réguas, esquadros, transferidores, compassos, MP3, Ipod, Ipad e quaisquer outros recursos analógicos.

b) Ausentar-se da sala, a qualquer tempo, portando o **Cartão de Respostas**.

Observações: Por motivo de segurança, o candidato só poderá retirar-se da sala após 1 (uma) hora a partir do início da prova.

5.11.1. O candidato somente poderá levar o Caderno de Questões caso saía da sala de aplicação de sua prova nos últimos **30 (trinta) minutos**.

NOME DO (A) CANDIDATO (A): _____



MAIS INFORMAÇÕES:

Internet:

www.institutomachadodeassis.com.br

Telefone: (86) 3303-3146

E-mail: ima.primeiracruz2015@outlook.com

RASCUNHO

INSTITUTO MACHADO DE ASSIS – IMA

CONCURSO PÚBLICO PREFEITURA MUNICIPAL PRIMEIRA CRUZ-MA

01	02	03	04	05	06	07	08	09	10	11	12	13	14	15	16	17	18	19	20
21	22	23	24	25	26	27	28	29	30	31	32	33	34	35	36	37	38	39	40

FOLHA DE ANOTAÇÃO DO GABARITO - ATENÇÃO: Esta parte somente deverá ser destacada pelo fiscal da sala, após o término da prova

INSTITUTO
MACHADO DE ASSIS



LÍNGUA PORTUGUESA

QUESTÕES DE 1 A 10

INSTRUÇÃO:

Para responder a essas questões, assinale APENAS UMA ÚNICA alternativa correta e marque o número correspondente na Folha de Respostas.

AS QUESTÕES DE 1 A 10 ESTÃO RELACIONADAS AO TEXTO ABAIXO

TEXTO

1 Nessa sociedade neoliberal que respira uma cultura globocolonizadora, consumista, a
2 verdadeira cultura é substituída pelo entretenimento. Busca-se formar consumidores e não cidadãos.
3 Menos razão e mais emoção. Cultura é tudo aquilo que humaniza o nosso espírito e nossa consciência.
4 Ora, como o sistema multiplicará os seus lucros se as pessoas tiverem senso crítico e refinamento
5 espiritual?

6

7 A receita de sucesso do sistema é tornar o supérfluo necessário. Fazer com que o consumidor
8 prefira perder a cabeça a ver desaparecer das prateleiras o seu xampu preferido... Ninguém liga a
9 televisão para ver anúncios. Exceto a televisão a cabo, ninguém paga para ver televisão. Ela vive dos
10 anunciantes. Mas precisa de programas e telejornais para atrair o telespectador. Tudo bem pensado
11 para distraí-lo, entretê-lo, sem incomodá-lo e muito menos leva-lo a perceber que a realidade contém
12 fatos e verdades que o senso comum ignora.

13 Já pensou a televisão exibindo uma série sobre a dívida externa brasileira e seus efeitos na
14 economia nacional e na qualidade de vida do povo? Não daria ibope (....)

15 A força do sistema reside em seu poder de sedução. Ele mexe com a mente e o coração das
16 pessoas. Acena com riqueza fácil, beleza fácil, poder fácil, desde que se adotem os seus valores:
17 acumular, competir, ficar-na-sua, não se envolver com problemas alheios e causas coletiva. Imprima
18 à sua vida o doce embalo dos filmes de Hollywood. Ou você conhece algum vencedor sem uma boa
19 dose de egoísmo?

20 Assim, o sistema desumaniza. E quando a desumanização aparece na forma de violência
21 urbana (por que os pobres ficariam isentos da sedução da riqueza?), então o sistema grita: “Basta!
22 Desarmem-se!” Ora, como desarmar-se num sistema que induz a desamar? Conhece algum vencedor
23 preocupado com a sorte de 50 milhões de pobres e dos 21 milhões de miseráveis que existem no
24 Brasil?

FREI BETTO. Como deixar-se MOLDAR pelo sistema. IN: *caros Amigos*.



QUESTÃO 01

Da leitura do texto, pode-se inferir:

- A) Entretenimento e cultura são incompatíveis no mundo atual.
- B) O entretenimento destrói o senso crítico dos cidadãos conscientes.
- C) A cultura de massas é a solução contra o consumismo da sociedade neoliberal.
- D) O sistema entraria em crise se os cidadãos tivessem, pelo menos, capacidade de discernimento:

QUESTÃO 02

Para o autor,

- A) A conduta das pessoas leva a TV a emitir programas de baixa qualidade.
- B) Os cidadãos se voltam para o consumo como meio de esquecer os problemas sociais.
- C) Os modelos de sucesso impostos pela mídia revelam-se materialistas e desumanos.
- D) Os telespectadores são seduzidos pelos exemplos de sucesso fácil que presenciam no seu convívio social.

QUESTÃO 03

A alternativa em que a substituição, proposta à direita mantém o significado original do termo transcrito é:

- A) Isentos (L.21) - imunes.
- B) "consumista" (L.1) — desgastante.
- C) "supérfluo"(L.7) — abundante.
- D) "dose" (L.19) — mistura.

QUESTÃO 04

Pode ser retirado do texto, sem alterar o sentido do contexto, o termo:

- A) "seus" (L.13)
- B) "os" (L.4)
- C) "com" (L.15)
- D) "quando" (L.20)

QUESTÃO 05

Sobre a pontuação usada no texto pode-se afirmar:

- A) Os parênteses da linha 21 isolam uma reflexão.
- B) Os dois-pontos da linha 21 introduzem uma enumeração.
- C) As aspas da linha 21/22 indicam ironia.
- D) As reticências da linha 8 sugerem hesitação.

QUESTÃO 06

A alternativa em que há equivalência entre o termo transcrito e o que ele denota é:

- A) "de" (L.7) - dimensão.
- B) "para" (L.10) - direção.
- C) "sobre" (13) - assunto.
- D) "sem" (L.18) - referência.

QUESTÃO 07

Passando-se a oração "a verdadeira cultura é substituída pelo entretenimento." (L.1/L.2) para voz ativa, a forma verbal correspondente a "é substituída" ficará sendo:

- A) substituída.
- B) substituiu.
- C) substituirá.
- D) substitui.

QUESTÃO 08

Observe a frase:

"Cultura é tudo aquilo que humaniza o nosso espírito e a nossa consciência." (L.3)

Sobre a frase em destaque, é correto afirmar:

- A) O período é composto por coordenação e subordinação.
- B) O vocábulo "que" exerce função subjetiva.
- C) O termo "Cultura" é o agente da ação verbal.
- D) A palavra "tudo" modifica o nome.

QUESTÃO 09

Os termos "desde que" (L.16) e "Assim" (L.20), no texto, expressam, respectivamente, ideias de

- A) condição e conclusão.
- B) tempo e causa.
- C) concessão e explicação.
- D) alternância e comparação.

QUESTÃO 10

Exerce a mesma função sintática que o termo "de egoísmo" (L.19) a expressão:

- A) "das prateleiras" (L.8).
- B) "da riqueza" (21).
- C) "do povo" (L.14).
- D) "da sedução" (L.21).



INFORMÁTICA

QUESTÕES DE 11 A 15

QUESTÃO 11

Sobre hardware e software, analise:

- I- O Software refere-se a todos os elementos de programação de um sistema de computação, isto é, todos os programas, sejam de aplicação ou básicos do sistema, contrastando com a parte física e visível do sistema, o hardware.
- II- O Hardware é um conjunto de equipamentos que constituem o computador. Trata-se da parte física do sistema, todos seus elementos visíveis, partes mecânicas, elétricas, magnéticas, entre outros. Contrasta com a outra parte do sistema de computação, o software.

- A) Apenas a afirmativa I está correta.
- B) Apenas a afirmativa II está correta.
- C) As afirmativas I e II estão corretas.
- D) As afirmativas I e II estão incorretas.

QUESTÃO 12

O formato padrão ao salvar um arquivo de texto do aplicativo BrOffice Writer é:

- A) doc
- B) docx
- C) xls
- D) odt

QUESTÃO 13

No Microsoft Word 2010 a função do atalho **Ctrl+W** é:

- A) Refazer a última ação feita.
- B) Fechar o documento sendo editado.
- C) Localizar um trecho de texto no documento.
- D) Alinhar o texto selecionado à direita.

QUESTÃO 14

Sobre o aplicativo Microsoft Excel 2010 analise as afirmativas abaixo:

- I- A função **=SOMA** permite somar apenas os valores de um intervalo contíguo.
- II- A função **=EXATO** compara se dois textos são diferentes.
- III- A função **=CONT.SE** conta o número de células que respeitam um certo critério.

- A) Apenas as afirmativas I e II são falsas.
- B) Apenas as afirmativas II e III são falsas.
- C) Apenas a afirmativa I é falsa.
- D) Nenhuma afirmativa é falsa.

QUESTÃO 15

O Backdoor é um programa que:

- A) Monitora as atividades do usuário e envia essas informações à terceiros.
- B) Permite que o computador tenha uma proteção a mais contra-ataques de terceiros.
- C) Envia mensagens eletrônicas indesejadas por ou não solicitadas, muito utilizado para a propagação de outras ameaças.
- D) Permite que um invasor tenha acesso a um computador comprometido.



CONHECIMENTOS PEDAGÓGICOS

QUESTÕES DE 16 A 20

QUESTÃO 16

“Embora uma tecnologia do ensino se ocupe principalmente com o comportamento do aluno, existem outras figuras no mundo da educação às quais se aplica uma análise experimental.” (SKINNER, 1972,p.217)

O trecho acima faz parte de uma das publicações de SKINNER, “ O comportamento do sistema”. As ideias do referido autor fundamenta a tendência pedagógica:

- A) Tradicional
- B) Tecnicista
- C) Crítico Social dos Conteúdos
- D) Libertadora

QUESTÃO 17

A Tendência _____ tem suas origens, no movimento da educação popular, no final dos anos 50 e início dos anos 60, quando foi interrompida pelo golpe militar de 1964, e retorna seu desenvolvimento no final dos anos 70 e início dos anos 80.

O termo que preenche corretamente a lacuna é:

- A) Tradicional
- B) Libertadora
- C) Crítico Social dos Conteúdos
- D) Libertadora

QUESTÃO 18

O currículo é uma práxis, é a expressão da função socializadora e cultural da educação. Sendo assim, as funções que o currículo cumpre, como expressão do projeto cultural e da socialização são realizadas por meio de seus conteúdos e das práticas que giram em torno de si.

Pode-se afirmar que o texto acima retrata uma concepção de currículo:

- A) Crítica
- B) Tradicional
- C) Estrutural
- D) Formal

QUESTÃO 19

Nas técnicas de ensino individualizado a ênfase é colocada no indivíduo e atende os seguintes princípios, EXCETO:

- A) do ritmo próprio
- B) da resposta ativa
- C) da verificação imediata
- D) das possibilidades que o indivíduo traz de interagir com o outro.

QUESTÃO 20

Esta estratégia mobiliza de forma significativa os alunos, que se sentem valorizadas e encontram nessa atividade um espaço de socialização de seus pensamentos e compreensão das relações sociais de que fazem parte. Para que esta estratégia aconteça de forma satisfatória é preciso que o tema em análise seja conhecido por todos, sobretudo pelo professor. Contribui para a independência intelectual do aluno ao colocá-lo diante de situações de contraste, nas quais é preciso tomar posições fundamentais.

A estratégia caracterizada no texto acima é:

- A) Seminário
- B) Debate
- C) Pesquisa
- D) Auto avaliação



CONHECIMENTOS ESPECÍFICOS

QUESTÕES DE 21 A 40

QUESTÃO 21

As projeções cartográficas permitem representar a superfície esférica da Terra em um plano, elas são a base para a confecção de um mapa, constituindo uma rede sistemática de paralelos e meridianos, permitindo que esses sejam desenhados. Sobre as projeções cartográficas, todas as afirmações abaixo estão corretas, **EXCETO**.

- A) As diferentes projeções cartográficas foram desenvolvidas com o intuito de minimizar as distorções ocorridas durante a produção de um mapa e, principalmente, fazer com que essas distorções sejam conhecidas.
- B) O plano da projeção cilíndrica é um cilindro envolvendo a esfera terrestre. Depois de realizada a projeção dos paralelos e meridianos do globo para o cilindro, este é aberto ao longo de um meridiano, tornando-se um plano sobre o qual será desenhado o mapa.
- C) O plano da projeção cônica é um cone envolvendo a esfera terrestre. Os paralelos são círculos concêntricos e os meridianos retos convergem para o polo.
- D) Projeção Plana ou Azimutal, nesta o plano da projeção é um plano retângulo longitudinal à esfera terrestre. Os paralelos são círculos concêntricos e os meridianos diagonais irradiam-se do polo.

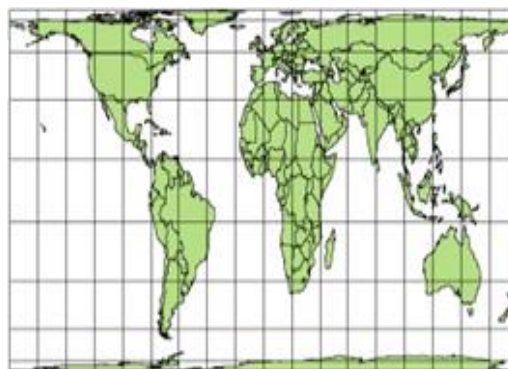
QUESTÃO 25

Projeção Senoidal executada por Mercator, Sanson e Flamsteed, tem os paralelos horizontais e equidistantes. Trata-se de um tipo de projeção que procura manter as dimensões superficiais reais, deformando a fisionomia. Esta deformação intensifica-se na periferia do mapa. Assinale a alternativa em que esta projeção está representada.

A)



B)



C)



D)



QUESTÃO 22

A figura abaixo é uma projeção equivalente, seu contorno elipsoidal faz referência à forma aproximada da terra que tem um ligeiro achatamento nos polos. Ela é chamada de:

- A) Projeção de Peters
- B) Projeção de Hölzel
- C) Projeção de Robinson
- D) Projeção

QUESTÃO 23

Qual a projeção que conserva os ângulos verdadeiros e é muito utilizada para a navegação marítima e aeronáutica?

- A) Projeção de Mercator
- B) Projeção de Peters
- C) Projeção de Hölzel
- D) Projeção Azimutal Equidistante Polar

QUESTÃO 24

A linha imaginária, que corresponde ao marco inicial (0°) dos fusos horários é:

- A) Meridiano de Greenwich
- B) Linha do Equador
- C) Círculo Polar Ártico
- D) Trópico de Capricórnio

**QUESTÃO 26**

As zonas horárias ou fusos horários são cada uma das vinte e quatro áreas em que se divide a Terra e que seguem a mesma definição de tempo. Sobre os fusos horários todas as afirmações abaixo estão corretas, **EXCETO**.

- A) A metodologia utilizada na elaboração dos fusos horários é a seguinte: Divisão dos 360º da circunferência terrestre em 24 partes, cujos limites entre uma e outra são de 15º, o que equivale a uma hora do dia.
- B) Sobre o sistema de fusos horários, é verdadeiro afirmar que eles são 24, cada um deles equivalendo a 15º de longitude.
- C) Todos os territórios da Região Nordeste possuem o mesmo horário de Brasília, exceto o arquipélago de Fernando de Noronha.
- D) Com as alterações no fuso horário brasileiro, os estados do Pará e do Acre passaram a ter o mesmo horário de Brasília.

QUESTÃO 27

Espaço delimitado por relações de poder é:

- A) Lugar
- B) Região
- C) Território
- D) Natureza

QUESTÃO 28

O termo fuso denomina a porção de superfície esférica compreendida entre dois semiplanos que partem de um diâmetro da esfera, assemelhando-se à superfície externa de um gomo de laranja. Sobre os fusos horários todas as afirmações abaixo estão corretas, **EXCETO**.

- A) Todos os fusos horários são definidos em relação ao Tempo Universal Coordenado (UTC), o fuso horário que contém Londres quando esta cidade não está no horário de verão onde se localiza o meridiano de Greenwich, o qual divide o fuso horário.
- B) As Regiões Sul, Sudeste e Centro-Oeste do Brasil têm 3 horas a menos em relação ao Meridiano de Greenwich.
- C) De acordo com o novo fuso horário do Brasil, Amazonas e Acre possuem 1 hora a menos em relação à Brasília e 4 horas em relação ao Meridiano de Greenwich.
- D) Fuso e meridiano não são a mesma coisa: meridiano é uma linha; fuso é uma faixa. Cada fuso contém 15 meridianos com 1º de afastamento um do outro.

QUESTÃO 29

O território brasileiro, por se encontrar no hemisfério ocidental, possui o seu horário atrasado em relação ao meridiano de Greenwich. Sobre os fusos horários brasileiros todas as afirmações abaixo estão corretas, **EXCETO**.

- A) De acordo com as mudanças no fuso horário brasileiro, o estado do Acre passou a pertencer ao fuso 60º Oeste, ou seja, - 4 horas com relação ao meridiano de Greenwich.
- B) Em consequência da pouca distância do território brasileiro no sentido Leste-Oeste, o país não apresenta fusos horários distintos.
- C) Todas as unidades federativas da Região Sul e Sudeste apresentam o mesmo horário de Brasília, que é considerado o horário oficial do Brasil.
- D) Fernando de Noronha está situado na zona que corresponde a 30º O, sendo a porção do território brasileiro onde as horas são as mais adiantadas.

QUESTÃO 30

A cartografia é a ciência da representação gráfica da superfície terrestre, tendo como produto final o mapa. Sobre a cartografia todas as afirmações abaixo estão corretas, **EXCETO**.

- A) O bom uso da linguagem cartográfica compreende a capacidade de entendimento dos símbolos utilizados na representação dos fenômenos geográficos
- B) A indicação da escala utilizada é indispensável para a leitura adequada de produtos cartográficos.
- C) O traçado de curvas de nível, ou isoípsas, é um dos recursos cartográficos utilizados para representar o relevo terrestre.
- D) Na cartografia, as representações de área não podem ser acompanhadas de diversas informações, tanto os símbolos, cores, entre outros elementos são projetados separados.

QUESTÃO 31

A escala cartográfica é um importante elemento presente nos mapas, sendo utilizada para representar a relação de proporção entre a área real e a sua representação. Sobre a escala cartográfica todas as afirmações abaixo estão corretas, **EXCETO**.

- A) Quanto maior a escala, menor a área representada e maior é o nível de detalhamento.
- B) Quanto menor a escala de uma representação cartográfica, maiores e mais visíveis serão os detalhes de cada fenômeno representado.
- C) A escala determina o nível de análise e de detalhes que são representados pelo mapa.
- D) Se um centímetro no mapa equivale a 20 metros no terreno, a escala respectiva do mapa é 1:20 000.

**QUESTÃO 32**

Tudo aquilo que a vista abarca... que está em constante movimento é:

- A) Paisagem
- B) Região
- C) Lugar
- D) Sociedade

QUESTÃO 33

Conjunto de indivíduos de ambos os sexos e de todas as idades, associados e com padrões culturais comuns é:

- A) Nação
- B) Povo
- C) Estado
- D) Sociedade

QUESTÃO 34

No contexto teórico de definição do desenvolvimento do capitalismo no campo, a modernização significou o desaparecimento das formas tradicionais de relação com a terra. Assim no contexto espacial, a modernização definiu espaços diferentes, determinados pela maior ou menor adesão às técnicas modernas de produção. No espaço agropecuário e suas formas de organização a modernização considerou vários aspectos, dentre eles todos citados abaixo, **EXCETO**.

- A) Desenvolvimento tecnológico e os conflitos sociais
- B) A degradação ambiental e as relações de trabalho no campo
- C) A dualidade entre pequena e grande produção e a relação agricultura/indústria,
- D) O uso da terra em áreas já exploradas visto que os pequenos produtores não almejam permanecer na terra.

QUESTÃO 35

É entendido como o espaço produzido e apropriado pela sociedade, composto pela Inter-relação dos objetos naturais e culturais é:

- A) Espaço geográfico
- B) Território
- C) Natureza
- D) Estado - Nação

QUESTÃO 36

A produção agrícola começa a ser efetuada da mesma forma nas mais diferentes partes do planeta onde as mudanças foram se propagando lentamente, assim como na própria agricultura o avanço tecnológico não se fez de súbito. Analise as afirmações abaixo sobre o espaço agropecuário e suas formas de organização:

- I. No final da década de 1960, começavam a aparecer com grande ênfase, na Europa e nos Estados Unidos, os efeitos danosos da Revolução Verde, já plenamente instalada naquelas áreas e ainda incipiente no Brasil.
- II. A década de 1970 surgiu trazendo consigo uma série de mudanças e consolidando a chamada agricultura capitalista.
- III. Não só a preocupação com produtos exportáveis conduziu a mudanças importantes nos padrões de utilização da terra, mas também as diretrizes de substituir importações;
- IV. O processo de modernização agrícola iniciado na segunda metade do século XX é um marco histórico que explica o atual contexto do espaço agrário brasileiro.

Após análise das afirmações acima, podemos concluir que:

- A) Apenas I, II e III estão corretas
- B) I, II, III e IV estão corretas.
- C) Apenas II, III e IV estão corretas
- D) Apenas I, II e IV estão corretas

QUESTÃO 37

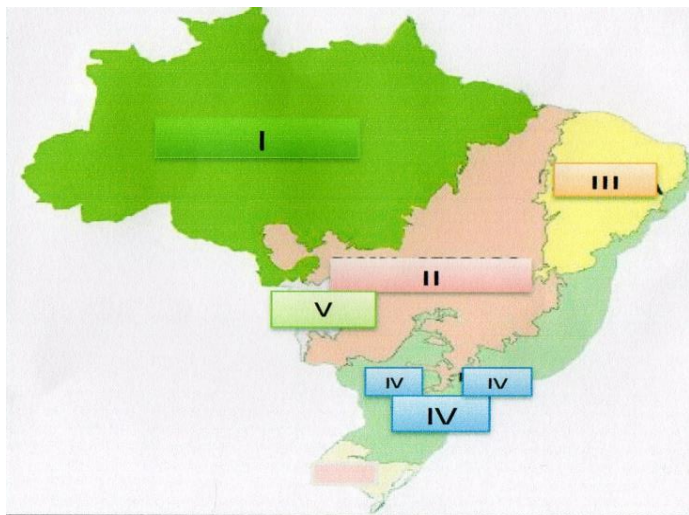
As ideias ecológicas foram difundidas a partir da década de 70, os grupos não se restringem apenas às questões ambientais, tratam também dos aspectos sociais e culturais, principalmente em nível local. Em 1992 aconteceu um encontro internacional para debater os problemas ambientais, esse evento ficou conhecido como Eco-92 ou Rio-92, realizado entre os dias 3 e 14 de junho de 1992, na cidade do Rio de Janeiro. Os objetivos principais dessa conferência são todos citados abaixo, **EXCETO**.

- A) Examinar a situação ambiental mundial desde 1972 e suas relações com o estilo de desenvolvimento vigente.
- B) Estabelecer mecanismos de transferência de tecnologias não poluentes aos países subdesenvolvidos
- C) Examinar estratégias nacionais e internacionais para incorporação de critérios ambientais ao processo de desenvolvimento
- D) Criar um sistema internacional permanente para solucionar ameaças ambientais e prestar socorro em casos emergenciais.



QUESTÃO 38

Os biomas do Brasil são conjuntos de ecossistemas (vegetal e animal) com uma diversidade biológica própria. Observe o mapa abaixo e analise as afirmações a respeito dos biomas correspondentes a numeração indicada no mapa.



- I. A Amazônia é o maior bioma brasileiro, maior reserva de madeira tropical do mundo, cerca de 2.500 espécies de árvores, abriga cerca de 30 mil espécies de plantas. A Floresta Amazônica, contida no bioma Amazônia é considerada a maior floresta tropical do mundo.
- II. O Bioma Pantanal, considerado o de menor extensão territorial do país, abrange os estados de Mato Grosso e Mato Grosso do Sul. A vegetação marcada pelas gramíneas, árvores de médio porte, plantas rasteiras e arbustos.
- III. A Caatinga ocupa grande parte da região nordeste, presença desse tipo de bioma em pequenas partes do Maranhão e de Minas Gerais. Clima semiárido, vegetação arbustiva de médio porte, com galhos retorcidos e presença de cactos.
- IV. A Mata Atlântica ocupa a faixa litorânea de norte a sul do país, engloba a totalidade de três estados: Espírito Santo, Rio de Janeiro e Santa Catarina; grande parte do Paraná e pequenas porções de onze estados, clima Tropical-úmido, altas temperaturas e índice pluviométrico, árvores de grande e médio-porte formando uma floresta densa e fechada.
- V. O Cerrado o segundo maior bioma do Brasil em extensão, abrange os estados: Maranhão, Distrito Federal, Goiás, Mato Grosso do Sul, Minas Gerais e Tocantins. Ocupa uma pequena área de outros seis estados. O clima predominante é tropical sazonal, árvores de troncos retorcidos, gramíneas e arbustos.

Após análise das afirmações acima podemos concluir que:

- A) I, II, III, IV e V estão corretas.
- B) Apenas I, III e IV estão corretas
- C) Apenas I, II, III e IV estão corretas.
- D) Apenas II, IV e V estão corretas

QUESTÃO 39

O Brasil apresenta uma enorme área territorial e possui uma rede hidrográfica formada por rios extensos e de grande volume de água. No mundo, o país reúne as maiores bacias hidrográficas do planeta. Leia as informações abaixo e assinale a alternativa com o nome da bacia a que o texto se refere.

É a maior bacia hidrográfica totalmente brasileira. Oferece grande parte de seu curso navegável. É a segunda em produção de energia no Brasil, e está situada na Amazônia Oriental. A Hidrelétrica de Tucuruí, construída no rio principal dessa bacia, no município de Tucuruí, no estado do Pará, é a maior usina hidrelétrica totalmente brasileira. É responsável pelo abastecimento de energia de grande parte dos estados do Pará, Maranhão e Tocantins. Uma eclusa e um canal de 5,5 km, permite a navegação em grande parte do rio.

- A) Bacia do Tocantins - Araguaia
- B) Bacia Platina
- C) Bacia do Uruguai
- D) Bacia do Atlântico Leste

QUESTÃO 40

A Região Hidrográfica deste rio ocupa uma área de 344.112 km², que corresponde a 4,04% do território nacional. Compreende principalmente os estados do Piauí, Maranhão. A maioria de seus afluentes são perenes e supridos por águas pluviais e subterrâneas. Esta Bacia é:

- A) Bacia do Parnaíba
- B) Bacia do São Francisco
- C) Bacia do Paraná
- D) Bacia do Atlântico Leste