

ESTADO DO PIAUÍ
PREFEITURA MUNICIPAL DE SÃO JOSÉ DO PEIXE - PI
CONCURSO PÚBLICO PARA PROVIMENTO DE CARGOS



CARGO:

MOTORISTA


TURNO: TARDE



CADERNO DE PROVA OBJETIVA

LEIA COM ATENÇÃO AS INSTRUÇÕES ABAIXO

- 01** – Examine se a prova está completa, se há falhas ou imperfeições gráficas que causem dúvidas.
- 02** – A prova consistirá de 40 questões com quatro alternativas (A, B, C, D) das quais apenas uma é verdadeira. Leia atentamente cada questão e escolha a alternativa, marcando sua resposta no cartão resposta, cobrindo levemente todo o espaço correspondente à letra a ser assinalada.
- 03** – Durante a prova, é vedado o intercâmbio e o empréstimo de qualquer material entre os candidatos.
- 04** – Não poderão ser utilizados, durante a prova, recursos como: régua, dicionário, boné, calculadora, relógio digital, bem como outro material que possa indicar tentativa de fraude.
- 05** – Esta prova terá duração de 3 horas, com início às 14h e término às 17h.



INFORMAÇÕES ADICIONAIS

SITE:
WWW.INSTITUTOMACHADODEASSIS.COM.BR

Telefone:
(86) 9438-4081

E-mail:
ima.saojosedopeixe2015@outlook.com

NOME DO CANDIDATO(A)

INSTITUTO MACHADO DE ASSIS - IMA

CONCURSO PÚBLICO DA PREFEITURA MUNICIPAL DE SÃO JOSÉ DO PEIXE - PI

RASCUNHO

01	02	03	04	05	06	07	08	09	10	11	12	13	14	15	16	17	18	19	20
21	22	23	24	25	26	27	28	29	30	31	32	33	34	35	36	37	38	39	40

FOLHA DE ANOTAÇÃO DO GABARITO - ATENÇÃO: Esta parte somente deverá ser destacada pelo fiscal da sala, após o término da prova.



LINGUA PORTUGUESA – QUESTÕES DE 01 A 15

01) Aponte a alternativa que não possui erros quanto à grafia:

- (A) analisar
- (B) carniça
- (C) fulijem
- (D) encharcar

02) Assinale a alternativa em que a palavra em destaque está escrita corretamente:

- (A) Minha irmã mais nova achou um amoleto da sorte no jardim.
- (B) Eu tinha um jabuti de estimação chamado Airton Senna.
- (C) Hoje o almoço será arroz misturado com muela.
- (D) Minha avó trabalhava em um cortume.

03) A palavra BAÚ é:

- (A) monossílaba
- (B) dissílaba
- (C) trissílaba
- (D) polissílaba

04) Todas as palavras seguem a mesma regra de acentuação que a palavra ÁLIBI, EXCETO:

- (A) têxtil
- (B) íterim
- (C) lêmure
- (D) óculos

05) Todas as palavras a seguir possuem um ditongo decrescente, EXCETO:

- (A) úteis
- (B) retráteis
- (C) fúteis
- (D) série

06) Assinale a alternativa em que o termo destacado é classificado como substantivo derivado:

- (A) Coloquei as bananas na fruteira que está do lado do fogão.
- (B) Um copo de água, por favor!
- (C) A frota de ônibus do município está sucateada.
- (D) Mais de 100 mil pessoas se inscreveram para uma viagem sem volta a Marte.

07) Aponte a opção que possui erros quanto à acentuação:

- (A) A criança fez um verdadeiro escarcéu.
- (B) Herói é palavra oxítona, mas heróico é paroxítona.
- (C) Esfomeado, você comeu vinte pastéis.
- (D) Visitamos o mausoléu do Conde Drácula.

08) Quanto ao gênero, os adjetivos CONFUSO, HONRADO e PURO:

- (A) são todos comparativos.
- (B) são todos uniformes.
- (C) são uniformes os dois primeiros, e biforme o último.
- (D) são todos bifomes.

09) Assinale a alternativa em que o termo destacado não é pronome indefinido.

- (A) Esta obra não tem valor algum.
- (B) Aquilo pertence a você?
- (C) Ela sempre ouvia certas desculpas do marido.
- (D) O senhor não quer comprar nada hoje?

10) Analise os itens a seguir:

- I. Verbo é a palavra que exprime ação, fenômeno natural, estado ou mudança de estado, situando esses fatos num determinado tempo.
- II. Radical: é a parte variável que contém o núcleo semântico e formal do verbo, podendo aparecer acompanhado de um prefixo.
- III. Vogal temática: são as vogais que se agregam às desinências a fim de indicar a conjugação a que o verbo pertence.

Assinale a alternativa correta:

- (A) todos os itens estão corretos.
- (B) todos os itens estão incorretos.
- (C) dois itens estão corretos.
- (D) apenas um item está correto.

11) Sobre o emprego do pronome relativo, marque a opção INCORRETA:

- (A) O pronome relativo QUE pode ser empregado em relação a coisas ou pessoas.
- (B) O pronome relativo QUEM refere-se a pessoas e a objetos, pode ou não vir acompanhado de preposição.
- (C) O pronome relativo QUE pode ter como antecedentes os demonstrativos O(S), A(S).
- (D) Para evitar ambiguidade, emprega-se o relativo O QUAL (e flexões).



12) "Escolas brasileiras criam e perpetuam preconceitos e discriminações de minorias, avaliam especialistas." Na oração, PERPETUAR tem o mesmo sentido de:

- (A) destruir
- (B) propagar
- (C) esconder
- (D) retirar

13) "O ônibus fedorento chegou." O sujeito da frase é:

- (A) simples
- (B) composto
- (C) oculto
- (D) indeterminado

14) Nenhuma das orações a seguir possui sujeito, EXCETO:

- (A) Na casa libanesa havia um tapete persa.
- (B) Não o vejo há meses.
- (C) Será cedo.
- (D) O primeiro e o segundo venceram com folga.

15) Aponte a alternativa em que a frase possui predicado nominal:

- (A) Zombaram de mim.
- (B) As pessoas andavam rápidas.
- (C) O Rio de Janeiro continua lindo.
- (D) Todas apontaram-no culpado.

MATEMÁTICA – QUESTÕES DE 16 A 20

16) Na expressão $5 \times (2 + B) = 5 \times 2 + 5 \times B$, a propriedade aplicada é:

- (A) Distributiva
- (B) Associativa
- (C) Elemento Neutro
- (D) Comutativa

17) O elemento neutro da subtração é:

- (A) Zero
- (B) Não há
- (C) 1
- (D) 2

18) Dadas às afirmações:

- I- A subtração é associativa.
- II- A subtração não é comutativa.
- III- O zero é o elemento neutro da subtração.
- IV- $5-0$ é igual a $0-5$.
- V- A subtração não possui elemento neutro.

São verdadeiras somente:

- (A) I e IV
- (B) I, III e IV
- (C) III e V
- (D) II e V

19) A operação: $1,2\text{dam} + 0,3\text{km} - 140\text{dm}$ em uma mesma medida é:

- (A) 28 m
- (B) 280 m
- (C) 141,5 m
- (D) 145 m

20) Em uma sacola havia 60 bananas. Se no primeiro dia estragou-se $\frac{1}{3}$ dessas bananas e no segundo dia $\frac{5}{12}$ do total, quantas bananas estão estragadas?

- (A) 20
- (B) 32
- (C) 37
- (D) 45

CONHECIMENTOS ESPECÍFICOS DA ÁREA QUESTÕES DE 21 A 40

21) De acordo com a Resolução CONTRAN nº 168 DE 14/12/2004 em seu Art. 3º estabelece que para a obtenção da Autorização para Conduzir Ciclomotor e da Carteira Nacional de Habilitação o candidato devesse submeter-se a realização de:

- I. Avaliação Psicológica;
- II. Exame de Aptidão Física e Mental;
- III. Exame escrito, sobre a integralidade do conteúdo programático, desenvolvido em Curso de Formação para Conductor;
- IV. Exame de Direção Veicular, realizado na via pública, em veículo da categoria para a qual esteja se habilitando.




Após análise das afirmações acima podemos concluir que:

- (A) Apenas I e II estão corretas
 (B) Apenas II e III estão corretas
 (C) I, II, III e IV estão corretas.
 (D) Apenas II, III e IV estão corretas
- 22) De acordo com o Art. 6º da Resolução CONTRAN nº 168 DE 14/12/2004 O Exame de Aptidão Física e Mental será exigido quando da realização de todas as ações abaixo, **EXCETO**.
- (A) Obtenção da Autorização para Conduzir Ciclomotor e da Carteira Nacional de Habilitação;
 (B) Renovação da Autorização para Conduzir Ciclomotor e das categorias da Carteira Nacional de Habilitação;
 (C) Subtração e mudança de categoria;
 (D) Substituição do documento de habilitação obtido em país estrangeiro.
- 23) A sinalização é o conjunto de sinais de trânsito e dispositivos de segurança colocados na via pública, com o objetivo de garantir sua utilização adequada. Sobre a sinalização todas as afirmações abaixo estão corretas, **EXCETO**.
- (A) Onde não existir sinalização regulamentadora, a velocidade máxima permitida é de noventa quilômetros por hora para ônibus e micro-ônibus, nas rodovias das vias rurais.
 (B) Os sinais luminosos são controlados eletronicamente e advertem e controlam os fluxos de pedestres e veículos.
 (C) A sinalização horizontal é pintada ou desenhada sobre a pista na forma de faixas, símbolos ou inscrições. As faixas que permitem ultrapassagem são Seccionadas.
 (D) Os sinais de trânsito classificam-se em: verticais, horizontais, dispositivos de sinalização auxiliar, luminosos, sonoros e gestos do agente de trânsito e do condutor.
- 24) De acordo com a Resolução CONTRAN nº 432, de 23 de janeiro de 2013. Em seu art. 3º estabelece que a confirmação da alteração da capacidade psicomotora em razão da influência de álcool ou de outra substância psicoativa que determine dependência dar-se-á por meio de, pelo menos, um dos seguintes procedimentos a serem realizados no condutor de veículo automotor. Todos estão citados abaixo, **EXCETO**.



- (A) Exame de sangue;
 (B) Exames realizados por laboratórios especializados dos indicados pelo órgão ou entidade de trânsito competente ou pela Polícia Judiciária, em caso de consumo de outras substâncias psicoativas que determinem dependência;
 (C) Teste em aparelho destinado à medição do teor alcoólico no ar alveolar (termômetro);
 (D) Verificação dos sinais que indiquem a alteração da capacidade psicomotora do condutor

- 25) As placas de regulamentação têm por finalidade informar os usuários sobre condições, proibições, obrigações ou restrições no uso da via. Do conjunto de sinais de Regulamentação a seguir, qual deles determina situação de "Passagem Obrigatória"?



- 26) A **mecânica automotiva** é a especialidade que cuida do conserto e manutenção de automóveis. Todas as afirmações abaixo sobre mecânica automotiva estão corretas, **EXCETO**.
- (A) O conjunto de peças que serve para ligar e desligar a força motriz à caixa de marchas chama-se embreagem.
 (B) O excesso de fumaça eliminado pelos motores de combustão pode ser identificado pela ventilação do motor



- (C) A peça mais pesada do motor chama-se Bloco do motor.
- (D) Filtros sujos ou em mau estado, bem como a má regulagem do carburador ou injeção eletrônica, provocam queima imperfeita de combustível, causando aumento do consumo de combustível.
- 27) Constitui infração de trânsito a inobservância de qualquer preceito do CTB, da legislação complementar ou das Resoluções do CONTRAN. Sobre esse assunto todas as afirmações abaixo estão corretas, **EXCETO**.
- (A) Constitui infração gravíssima, punível com multa (cinco vezes) e apreensão do veículo, dirigir veículo com Carteira Nacional de Habilitação ou Permissão para dirigir.
- (B) As infrações punidas com multa classificam-se, de acordo com sua gravidade, na infração grave são computados seis pontos.
- (C) O condutor flagrado conduzindo passageiro no compartimento de carga do veículo estará cometendo uma infração de trânsito Gravíssima.
- (D) É considerada uma infração de trânsito leve, uso de luz alta em vias iluminadas.
- 28) Os primeiros socorros são procedimentos básicos de emergência que devem ser aplicados a uma pessoa em situação de risco de vida, procurando manter os sinais vitais bem como impedir o agravamento, até que a vítima receba adequada assistência. Sobre os procedimentos de primeiros socorros todos abaixo estão corretos, **EXCETO**.
- (A) Em um determinado acidente verificou-se que a vítima teve fratura exposta assim ao transportá-la deve-se em primeiro lugar procurar algo rígido, enfaixando-o junto ao membro machucado para imobilizá-lo.
- (B) Chegando ao local do acidente e verificando que a vítima teve apenas o seu dedo arrancado (amputado). A medida correta a ser tomada é embrulhar o dedo em gaze e levá-lo junto com a pessoa para o hospital.
- (C) Quando em um local de acidente você percebe que há sinais claros que a vítima não tem respiração ou pulsação a medida correta a tomar é Virar a vítima de bruços e tentar comprimir suas costas.
- (D) Em um acidente você observa que uma pessoa está tendo convulsões, o correto a fazer é proteger a cabeça da pessoa contra traumas e virá-la de lado em caso de vômitos.
- 29) Pratica infração o motorista que parar o veículo em todas as situações abaixo, **EXCETO**.
- (A) Em passeio, em gramados ou em jardim público.
- (B) Nas esquinas, a menos de cinco metros do bordo do alinhamento da via transversal.
- (C) Na área de cruzamento de vias, prejudicando a circulação de veículos e de pedestres.
- (D) Junto da guia da calçada (meio-fio) com a metragem especificada pelo Código de Trânsito Brasileiro:
- 30) Acerca da habilitação para dirigir e do processo de habilitação, todas as afirmações abaixo estão corretas, **EXCETO**.
- (A) Aos candidatos aprovados em todos os exames de habilitação é conferida uma permissão para dirigir, com validade de um ano, que permite ao seu titular dirigir apenas nas vias urbanas sob jurisdição do órgão executivo de trânsito que emitiu o documento.
- (B) Embora possam votar, os analfabetos maiores de dezoito anos que sejam penalmente imputáveis não podem obter permissão para dirigir.
- (C) Para que possa obter CNH, o titular de uma permissão para dirigir que cometer uma infração de natureza grave durante a vigência da permissão terá de reiniciar todo o processo de habilitação.
- (D) A cópia da CNH autenticada por um cartório competente não serve como documento válido de habilitação, mesmo que acompanhada por um documento original de identidade que tenha fé pública.
- 31) A sinalização vertical de advertência alerta aos usuários às condições potencialmente perigosas, obstáculos ou restrições existentes na via ou adjacentes a ela, indicando a natureza dessas situações à frente, quer sejam permanentes ou eventuais. Dos sinais de Advertência a seguir, qual indica "Pista Sinuosa"?
- (A) 
- (B) 



32) Sobre a mecânica automotiva todas as afirmações abaixo estão corretas, **EXCETO**.

- (A) A vela de ignição tem como função provocar uma centelha elétrica na câmara de explosão.
- (B) A função do silenciador no veículo é permitir uma partida suave do veículo
- (C) Uma das peças fundamentais do sistema de arrefecimento é a ventoinha.
- (D) O alternador é um elemento que faz parte do sistema elétrico

33) Considerando a situação hipotética em que Juarez esteja conduzindo sua caminhonete por uma via rural não pavimentada, a 80 km/h, Sobre essa situação todas as afirmações abaixo estão corretas, **EXCETO**.

- (A) Juarez está conduzindo seu automóvel por uma estrada e não por uma rodovia.
- (B) Juarez está cometendo infração de trânsito por dirigir acima da velocidade máxima permitida.
- (C) É obrigatório o uso de cinto de segurança tanto para Juarez quanto para os passageiros que estejam com ele na caminhonete.
- (D) Se Juarez for habilitado apenas na categoria B, ele estará dirigindo em condição irregular, pois ele precisaria estar habilitado na categoria C para conduzir caminhonetes.

34) Em relação aos primeiros socorros o indivíduo que primeiro inicia o auxílio, geralmente aquele que presenciou ou chegou instantes depois do ocorrido, necessita manter a calma para agir sem pânico, procedendo de forma rápida, precisa e com precaução, atento a condições que não coloquem em risco a vítima. Sobre os procedimentos de primeiros socorros todos abaixo estão corretos, **EXCETO**.

- (A) Chegando ao local do acidente, verificando que o acidentado sofreu queimaduras a medida correta a tomar é cobrir a ferida com gaze.

- (B) Ao chegar a um local de acidente de trânsito constatou que existiam várias vítimas dentre elas uma gritando, com muita dor, uma sangrando outra com muitas fraturas e uma respirando com muita dificuldade deverá receber os primeiros socorros, em primeiro lugar, a vítima que estiver respirando com muita dificuldade.

(C) Chegando a um local de acidente verifica que a Vítima apresenta fratura exposta (o osso quebrado está para fora). A medida correta a fazer é observar se a vítima está respirando, imobilizar o membro e acalmar a vítima.

- (D) O atendimento inicial que é feito no local de um acidente visa auxiliar a vítima e evitar consequências danosas no atendimento e no transporte.

35) O sinal abaixo indica que o fluxo de circulação é:



- (A) Siga em frente.
- (B) No sentido único.
- (C) Passagem obrigatória apenas para ônibus.
- (D) No sentido obrigatório para veículos pesados.

36) A finalidade do sistema de arrefecimento é:

- (A) Manter a temperatura ideal de trabalho do motor.
- (B) Controlar as rotações do motor.
- (C) Evitar o atrito das peças móveis do motor.
- (D) Reduzir a potência do motor.

37) Sobre a mecânica automotiva todas as afirmações abaixo estão corretas, **EXCETO**.

- (A) A peça que fecha a parte inferior do motor e serve como reservatório e coletor de óleo lubrificante chama-se ventoinha
- (B) Com o veículo em movimento você deve verificar o funcionamento de Direção, freios, velocímetro e suspensão.
- (C) Fazem parte do sistema elétrico bateria, distribuidor e bobina.
- (D) Os componentes do sistema de alimentação são Carburador e injeção eletrônica



38) Analise as afirmações abaixo de acordo com o Código de Transito Brasileiro.

- I. O condutor que, ao receber ordem de um agente de trânsito, se nega a realizar teste em aparelho de ar alveolar para avaliar a concentração de álcool em seu organismo, não apenas pratica infração administrativa, mas também comete crime de desacato.
- II. A categoria de CNH que permite conduzir veículos de carga com mais de 3.500kg, com ou sem reboque, desde que o reboque pese menos que 6.000Kg é a Categoria "C".
- III. A punição para o condutor flagrado com o cadastro de registro de veículo ou de habilitação desatualizado será apenas multa
- IV. A punição para o condutor que estacionar próximo a hidrantes de incêndios será de remoção do veículo e multa.

Após análise das afirmações abaixo podemos concluir que:

- (A) Apenas I, II e III estão corretas
- (B) Apenas I, III e IV estão corretas
- (C) Apenas II, III e IV estão corretas
- (D) Apenas I e III estão corretas

39) De acordo com o Código de trânsito Brasileiro todas as afirmações abaixo estão corretas, **EXCETO**.

- (A) Não usar sinal luminoso ou gesto indicador de mudança de direção, mudança de faixa ou parada é considerada uma infração de trânsito grave:
- (B) O recolhimento da CNH acontecerá quando o condutor: Utilizar alarme cujo som perturbe a tranquilidade pública.
- (C) A idade mínima para que o condutor consiga se habilitar na categoria E, que permite dirigir veículos das categorias B, C e D rebocando unidades com mais de 6.000Kg de peso ou lotação maior que 8 passageiros é 21 anos.
- (D) Efetuar ultrapassagem em cortejos, desfiles e formações militares. Não é considerada uma infração de trânsito média

40) Meio ambiente é o conjunto de componentes físicos, químicos, biológicos e sociais capazes de causar efeitos diretos ou indiretos, em um prazo curto ou longo, sobre os seres vivos e as atividades humanas. Para que haja integração entre trânsito e meio ambiente é muito importante o desenvolvimento de termos ambientais como humanização no trânsito, pois o uso de veículos automotores está diretamente ligado a dois tipos de poluição: sonora e atmosférica. Sobre esse assunto todas as afirmações abaixo estão corretas, **EXCETO**.

- (A) O veículo automotor é um dos responsáveis pela destruição da camada de ozônio. O mesmo contribui para a poluição da atmosfera através do atrito dos pneus com o solo; da evaporação do combustível do tanque e do sistema de descarga defeituoso dentre outros.
- (B) A má conservação e a regulagem inadequada dos veículos contribuem principalmente, para a poluição do ar e a poluição sonora.
- (C) O órgão coordenador do meio ambiente em todo Território Nacional é o CONAMA
- (D) As inspeções periódicas de emissão de gases, nos veículos automotores e indústrias, podem ajudar a melhorar as condições de vida dos habitantes dos centros urbanos, pois objetivam Diminuir o desgaste do motor.