


ESTADO DA BAHIA
PREFEITURA MUNICIPAL DE REMANSO
CONCURSO PÚBLICO PARA PROVIMENTO DE CARGOS



CARGO:

**MOTORISTA
VEÍCULO LEVE**

TURNO: MANHÃ



CADERNO DE PROVA OBJETIVA

LEIA COM ATENÇÃO AS INSTRUÇÕES ABAIXO

- 01** – Examine se a prova está completa, se há falhas ou imperfeições gráficas que causem dúvidas. Qualquer reclamação somente será aceita até os 15 minutos iniciais.
- 02** – A prova consistirá de 40 questões com cinco alternativas (A, B, C, D, E) das quais apenas uma é verdadeira. Leia atentamente cada questão e escolha a alternativa, marcando sua resposta no cartão resposta, cobrindo levemente todo o espaço correspondente à letra a ser assinalada.
- 03** – Durante a prova, é vedado o intercâmbio e o empréstimo de qualquer material entre os candidatos.
- 04** – Não poderão ser utilizados, durante a prova, recursos como: régua, dicionário, boné, calculadora, relógio digital, bem como outro material que possa indicar tentativa de fraude.
- 05** – Esta prova terá duração de 4 horas, com início às 08h e término às 12h.



INFORMAÇÕES ADICIONAIS

SITE:
WWW.INSTITUTOMACHADODEASSIS.COM.BR

Telefone:
(86) 9438-4081

E-mail:
lma.remanso2014@outlook.com

NOME DO CANDIDATO(A)

INSTITUTO MACHADO DE ASSIS - IMA

CONCURSO PÚBLICO DA PREFEITURA MUNICIPAL DE REMANSO - BA

RASCUNHO

01	02	03	04	05	06	07	08	09	10	11	12	13	14	15	16	17	18	19	20
21	22	23	24	25	26	27	28	29	30	31	32	33	34	35	36	37	38	39	40

FOLHA DE ANOTAÇÃO DO GABARITO - ATENÇÃO: Esta parte somente deverá ser destacada pelo fiscal da sala, após o término da prova.



LINGUA PORTUGUESA – QUESTÕES DE 01 A 15

UM ENCONTRO FANTÁSTICO

Todos os anos eles se reúnem na floresta, a beira de um rio, para ver a quantas andava a sua fama. Eram criaturas fantásticas e cada uma vinha de um canto do Brasil. O Saci-Pererê chegou primeiro. Logo apontou no céu a Serpente Emplumada e aterrissou aos seus pés. Do meio das folhagens, saltou o Lobisomem, a cada toda peluda, os dentes afiados, enormes. Não tardou, o tropel de um cavalo anunciou o Negrinho do Pastoreiro montado em pelo no seu baio.

— Só falta o Boto – disse o Saci, impaciente.

— Se tivesse alguma moça aqui, ele já teria chegado para seduzi-la – comentou a Serpente emplumada.

— Também acho – concordou o Lobisomem.

— Só que eu já a teria apavorado.

Ouviram nesse instante um rumor à margem do rio. Era o Boto saindo das águas na forma de um belo rapaz.

— Agora estamos todos – Disse o Negrinho do Pastoreiro.

— E então – perguntou o Boto, saudando o grupo. – como estão as coisas?

Dífceis – respondeu o Saci e soltou uma baforada. — Não assustei muita gente nessa temporada.

— Eu também não – Emendou a Serpente Emplumada. – Parece que as pessoas lá no Nordeste não têm mais tanto medo de mim.

— Lá no Norte se dá o mesmo – disse o Boto – Em alguns locais, ainda atraio as mulheres, mas em outros elas nem ligam.

— Comigo acontece igual – disse o Negrinho do Pastoreiro. – Vivo a achar coisas que as pessoas perdem no Sul. Mas não entendi muitos pedidos esse ano.

— Seu caso é diferente – disse o Lobisomem. – Você não é assustador como eu, o Saci e a Serpente Emplumada. Você é um herói.

— Mas a dificuldade é a mesma – discordou o Negrinho do Pastoreiro.

— Acho que é a concorrência – disse o Boto. – Andam aparecendo muito heróis e vilões novos.

— Pois é – resmungou a Serpente Emplumada. – Até bruxas andam importando. Tem monstros demais por aí...

— São todos produzidos por homens de negócios – disse o Saci. – É moda. Vai passar...

— Espero – disse o Lobisomem. – Bons aqueles tempos em que eu reinava no país inteiro, não só no cerrado.

— A diferença é que somos autênticos – disse o Negrinho do Pastoreiro. – Nós nascemos do povo.

— É verdade – disse o Boto. – Mas temos de refrescar a sua memória.

— Se pegarmos no pé de uns escritores, a coisa pode melhorar – disse a Serpente Emplumada.

— Eu conheço um – disse o Saci – Vamos juntos atrás dele! – E foi o primeiro a se mandar, a mil por hora, em uma perna só.

João Anzanello Carrascoza. Um Encontro Fantástico. Nova Escola São Paulo: Abril, n. 140, abr.2001. p.34-5.

01) O texto revela que todos os anos as criaturas fantásticas se reuniam na floresta para discutir sobre algo muito importante. Sobre o que era a discussão?

- (A) Debater sobre a popularidade de cada um.
- (B) Debater sobre a pouca produção dos escritores
- (C) Debater sobre quem era herói e quem era vilão
- (D) Debater sobre as novas criaturas fantásticas.
- (E) Debater sobre quem era o mais forte.

02) Que problemas as criaturas fantásticas estavam enfrentando?

- (A) Elas não estavam mais aparecendo em suas regiões
- (B) Elas não estavam mais aparecendo nos livros
- (C) Elas não estavam mais conseguindo assustar as pessoas.
- (D) Elas não estavam mais nascendo do povo.
- (E) Elas não estavam se adaptando aos novos tempos.

03) Os personagens do texto acima pensaram em uma solução para os problemas que estavam enfrentando. Essa solução era:

- (A) “Pegar no pé” dos empresários para que eles parem de importar bruxas e diminuam o número de monstros nos livros
- (B) “Pegar no pé” de alguns escritores para que eles contem as histórias desses personagens, a fim de que as manifestações folclóricas sejam sempre divulgadas e nunca esquecidas.
- (C) “Pegar no pé” das pessoas para que elas parem de perder coisas inclusive os livros onde aparecem a história desses personagens.



- (D) Deixar de ser vilões para se tornarem heróis, assim às pessoas passaram a gostar mais desses personagens.
- (E) "Pegar no pé" de todos os escritores para que eles contem as histórias desses personagens, a fim de que as manifestações folclóricas sejam esquecidas.
- 04)** Que crítica está implícita no texto, uma vez que a história mostra que seres folclóricos brasileiros estão perdendo a credibilidade em relação a outros heróis?
- (A) A intenção é mostrar que esses personagens estão perdendo a credibilidade porque os escritores não querem mais escrever sobre eles.
- (B) A intenção é mostrar que os empresários ainda estão investindo muito nesses personagens nacional, por isso só são valorizados em sua região.
- (C) A intenção é mostrar que esses personagens devem aparecer em todo o país e não só na região a qual pertence.
- (D) A intenção é mostrar que as pessoas não ligam para a fauna de sua região.
- (E) A intenção é mostrar que as pessoas não estão valorizando o folclore nacional, preferindo ouvir histórias de personagens provenientes de outras culturas.
- 05)** No Brasil existem muitas versões da lenda do Lobisomem, variando de acordo com a região, porém de acordo com o texto essa lenda agora está predominando em qual região?
- (A) Norte
- (B) Centro-oeste
- (C) Sul
- (D) Nordeste.
- (E) Sudeste.
- 06)** Leia e observe as seguintes frases: "Do meio das folhagens, saltou o Lobisomem, a cara toda **peluda**, os dentes **afiados**, **enormes**" e "Era o Boto saindo das águas na forma de um **belo** rapaz". Das palavras sublinhadas nas frases acima todas são adjetivos biforme, **EXCETO**.
- (A) Peluda
- (B) Afiados
- (C) Enormes
- (D) Belo
- (E) Belo e Enormes

- 07)** Na seguinte frase: "Não tardou, o **tropel** de um cavalo anunciou o Negrinho do Pastoreiro..." Em todas as alternativas há sinônimo da palavra destacada, EXCETO.
- (A) Barulho
- (B) Intropelia
- (C) Alarido
- (D) Ruído
- (E) Algazarra
- 08)** Assinale a alternativa cuja palavra possui dois dígrafos.
- (A) Folhagens
- (B) Bruxas
- (C) Negrinho
- (D) Total
- (E) Aterrissou
- 09)** Na frase "A diferença é que somos **autênticos**". O antônimo da palavra destacada é:
- (A) Falsificado
- (B) Original
- (C) Legítimo
- (D) Verdadeiro
- (E) Autenticado
- 10)** Das palavras abaixo assinale aquela que **NÃO** deve receber acento gráfico.
- (A) Sutil
- (B) Util
- (C) Cafe
- (D) Tenis
- (E) Porem
- 11)** Com relação à concordância verbal analise as frases abaixo
- I. Férias faz bem
- II. Pêsames não traz conforto
- III. A multidão de fanáticos torcedores aplaudiram a espetacular jogada
- IV. Faltaram, naquele dia, cinco pessoas.
- Após análise das afirmações acima podemos concluir que;
- (A) Apenas III e IV estão corretas
- (B) Apenas I, II e III estão corretas
- (C) Apenas II, III e IV estão corretas
- (D) Todas estão incorretas.
- (E) Todas estão corretas.



12) Quanto à concordância Nominal todas as alternativas estão corretas, **EXCETO**.

- (A) A aspirina é bom para dor de cabeça
- (B) Bebida alcoólica é proibida para menores de 18 anos
- (C) Vão inclusas as procurações
- (D) Seguem anexos os livros.
- (E) As pessoas são temerosas acerca do futuro.

13) Assinale a alternativa em que todas as palavras são paroxítonas.

- (A) Libido – decano – filantropo – fortuito
- (B) Aeródromo – cateter – avaro – ibero
- (C) Meteorito – recorde – condor – aerólito
- (D) ágape – ureter – pudico – misantropo.
- (E) Tártaro – próximo – pródigo – tráfico.

14) Quantos fonemas há na palavra **CACHORRINHA**?

- (A) 8 fonemas
- (B) 7 fonemas
- (C) 10 fonemas
- (D) 11 fonemas
- (E) 6 fonemas

15) Assinale a alternativa em que todas as palavras estão separadas corretamente

- (A) Trans- a- tlân-ti-co/ fir-me/ psi-co-ssô-ci-al
- (B) Bis-ne-to/ sub-lin-gual/ de-sa-pe-gar
- (C) Bis-a-vô/ des-li-gar/ sub-scre-ver
- (D) A-bo-toan-do/ i-gno-ra/ cai-xi-nha
- (E) Ta – mbém/ Me-do/Ca-i-xa

MATEMÁTICA – QUESTÕES DE 16 A 20

16) Os números a , 12 e 15 são diretamente proporcionais aos números 28, b e 20, nessa ordem. Assim, qual a soma dos números a e b ?

- (A) 15
- (B) 11
- (C) 27
- (D) 37
- (E) 22

17) Uma porta com 1,5 m de comprimento foi colocada na vertical em relação ao chão e projetou uma sombra de 53 cm. Qual seria a sombra projetada no mesmo instante por um mastro que tem 10,5 m de altura?

- (A) 37,1 cm
- (B) 371 m
- (C) 3,71 m
- (D) 3,71 cm
- (E) 371 cm

18) Sabe-se que 37,5% de uma distância d corresponde a 600 m. Qual a distância x ?

- (A) 160m
- (B) 16 m
- (C) 16 km
- (D) 1600 km
- (E) 1,6 km

19) Alguns automóveis populares do tipo de passeio estão estacionados na rua. Se você contar as rodas dos automóveis, o resultado poderia ser?

- (A) 72
- (B) 42
- (C) 46
- (D) 50
- (E) 58

20) Um ano bissexto tem quantas horas?


- (A) 8760
- (B) 8784
- (C) 8890
- (D) 7654
- (E) 8888



CONHECIMENTOS ESPECÍFICOS DA ÁREA

QUESTÕES DE 21 A 40

21) A placa de advertência abaixo significa:



- (A) Mão Dupla Adiante
- (B) Estreitamento de Pista à Esquerda
- (C) Início de Pista Dupla
- (D) Entroncamento Oblíquo à Esquerda
- (E) Entroncamento Oblíquo à Direita

22) Para habilitar-se na Categoria "D" ou para conduzir veículo de transporte coletivo, o condutor deverá já estar habilitado há um tempo em determinada categoria. Esse tempo mínimo exigido e a categoria são, respectivamente:

- (A) Um ano na "B"
- (B) Dois anos na "A"
- (C) Dois anos na "B"
- (D) Dois anos na "C"
- (E) Um ano na "A"

23) São elementos do Sistema de Freios de um veículo:

- (A) Coroa, pinhão e lonas.
- (B) Disco de fricção, aditivo e lonas de freio.
- (C) Cabos primários, cabo secundário e travas.
- (D) Cabos primários e pinhão.
- (E) Cilindro mestre, disco e tambor.

24) De acordo com o Art. 293 do Código de Transito Brasileiro a penalidade de suspensão ou de proibição de se obter a permissão ou a habilitação, para dirigir veículo automotor, tem a duração de;

- (A) Dois meses a cinco anos.
- (B) Um a cinco anos
- (C) Três meses a três anos
- (D) Cinco meses a dois anos
- (E) Dois meses a um ano.

25) O provável defeito que faz o pedal de freio ficar muito duro e exigir muita força do motorista, para ser acionado, é:

- (A) Falta de vedação no servofreio.
- (B) Lona das rodas traseiras desgastadas.
- (C) Pastilha de freio vidrada.
- (D) Disco de freio com espessura menor que o especificado.
- (E) Desgaste no freio de disco.

26) Que tipo de infração comete o condutor que dirige veículo automotor sem usar lentes corretoras de visão impostas por ocasião da concessão da licença para conduzir:

- (A) Grave.
- (B) Média.
- (C) Leve.
- (D) Contravenção
- (E) Gravíssima.

27) De acordo com o Parágrafo Único do **Art. 302**; No homicídio culposo cometido na direção de veículo automotor, a pena é aumentada de um terço à metade, se o agente cometer as atividades descritas abaixo, **EXCETO**.

- (A) Possuir Permissão para Dirigir ou Carteira de Habilitação;
- (B) Praticá-lo em faixa de pedestres ou na calçada;
- (C) Deixar de prestar socorro, quando possível fazê-lo sem risco pessoal, à vítima do acidente;
- (D) No exercício de sua profissão ou atividade, estiver conduzindo veículo de transporte de passageiros.
- (E) Não possuir Permissão para Dirigir ou Carteira de Habilitação

28) Circulando por uma via você se depara com a placa abaixo o que ela adverte?



- (A) Passagem de Nível com Barreira
- (B) Ponte móvel
- (C) Passagem de Nível sem Barreira
- (D) Pista Irregular
- (E) Pista intercortada por Ferrovia.




29) Entre as categorias de habilitação previstas no Código de Trânsito, assinale a alternativa que contém habilitação para conduzir veículo motorizado utilizado no transporte de passageiros cuja lotação exceda 8 (oito) lugares, excluído o motorista:

- (A) C
- (B) D
- (C) B
- (D) A
- (E) A ou D

30) A função do **freio motor**, em um veículo pesado, é:

- (A) Fazer o motor parar rapidamente de rodar, quando for desligado.
- (B) Fazer o veículo frear melhor, usando a potência do motor para acionar os freios.
- (C) Diminuir o esforço que o motorista deve aplicar no pedal de freio, usando ar comprimido para auxiliar no acionamento dos freios.
- (D) Reduzir a velocidade do veículo, principalmente em descidas, ajudando a diminuir o esforço sobre os freios.
- (E) Reduzir a velocidade do veículo, exceto em descidas, ajudando a diminuir o esforço sobre os freios.

31) A placa de advertência abaixo significa:



- (A) Junções sucessivas contrárias primeira à esquerda.
- (B) Junções sucessivas contrárias primeira à direita.
- (C) Cruzamento de vias.
- (D) Interseção de círculo.
- (E) Interseção de vias.

32) De acordo com o **Art. 298** do Código de Trânsito Brasileiro. São circunstâncias que sempre agravam as penalidades dos crimes de trânsito ter o condutor do veículo dentre outras ter cometido a infração:

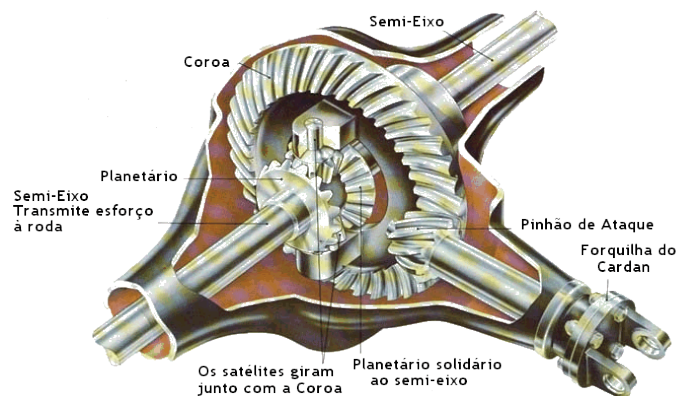
- I. Com dano potencial para duas ou mais pessoas ou com grande risco de grave dano patrimonial a terceiros;

- II. Utilizando o veículo sem placas, com placas falsas ou adulteradas;
- III. Sem possuir Permissão para Dirigir ou Carteira de Habilitação;
- IV. Com Permissão para Dirigir ou Carteira de Habilitação de categoria diferente da do veículo;
- V. Sobre faixa de trânsito temporária ou permanentemente destinada a pedestres.

Após análise das afirmações acima podemos concluir que:

- (A) Apenas I, II e III estão corretas
- (B) Apenas II, III e IV estão corretas
- (C) Apenas III, IV e V estão corretas
- (D) Todas estão corretas
- (E) Todas estão incorretas.

33) A figura abaixo mostra um diferencial que é um dispositivo mecânico o qual, nos veículos, tem a função de:



- (A) Dividir o torque entre os dois semieixos.
- (B) Aumentar a lubrificação da caixa de mudança.
- (C) Diminuir o atrito entre a carroceria e a suspensão.
- (D) Controlar os movimentos do amortecedor do veículo.
- (E) Aumentar o atrito entre a carroceria e a suspensão.

34) Toda pessoa que estiver realizando o atendimento de primeiros socorros deve, antes de tudo, atentar para a sua própria segurança. No caso de um acidente com vítimas em que o socorrista tenha que transportar vítimas deve-se observar os passos citados abaixo, **EXCETO**.

- (A) Se houver suspeita de fraturas no pescoço e nas costas, mover a pessoa para colocá-la no veículo para um socorro seguro.



- (B) Para puxá-la para um local mais seguro, mova-a de costas, no sentido do comprimento com o auxílio de um casaco ou cobertor.
- (C) Para erguê-la, você e mais duas ou três pessoas devem apoiar todo o corpo e colocá-la numa tábua ou maca. Se precisar, improvise com pedaços de madeira, amarrando cobertores ou paletós.
- (D) Apoie sempre a cabeça, impedindo-a de cair para trás.
- (E) Isolar e sinalizar o lugar para que os demais motoristas possam ter a devida atenção.

35) De acordo com o **Art. 311**, que penas está prevista ao condutor que trafegar em velocidade incompatível com a segurança nas proximidades de escolas, hospitais, estações de embarque e desembarque de passageiros, logradouros estreitos, ou onde haja grande movimentação ou concentração de pessoas, gerando perigo de dano?

- (A) Penas - detenção, de seis meses a um ano, ou multa.
- (B) Penas - Detenção, de seis meses a dois anos, multa e suspensão ou proibição de se obter a permissão ou a habilitação para dirigir veículo automotor.
- (C) Penas - detenção, de seis meses a um ano e multa, com nova imposição adicional de idêntico prazo de suspensão ou de proibição.
- (D) Penas - detenção, de seis meses a três anos, multa e suspensão ou proibição de se obter a permissão ou a habilitação para dirigir veículo automotor.
- (E) Penas - reclusão, de seis meses a um ano, ou multa.

36) De acordo com o **Art. 269**. A autoridade de trânsito ou seus agentes, na esfera das competências estabelecidas neste Código e dentro de sua circunscrição, deverá adotar as seguintes medidas administrativas, **EXCETO**.

- (A) Retenção do veículo e remoção do veículo;
- (B) Recolhimento da Carteira Nacional de Habilitação e da Permissão para Dirigir;
- (C) Recolhimento do Certificado de Registro e do Certificado de Licenciamento Anual;
- (D) Expropriação do veículo e da Carteira nacional de Habilitação
- (E) Transbordo de excesso de carga.

37) De acordo com o Código de Trânsito, quantos pontos são computados no caso das infrações graves?

- (A) Três pontos.
- (B) Cinco pontos.
- (C) Sete pontos.
- (D) Quatro pontos.
- (E) Dois pontos.

38) A lavagem de um veículo é uma maneira simples de conservar a pintura original, deixando o veículo sempre com aparência de novo. Sobre a manutenção e limpeza de veículos todas as afirmações abaixo estão corretas, **EXCETO**.

- (A) Deve-se proceder a lavagem sempre das partes superiores até as partes inferiores, ou seja, começando pela capota, passando pelo capô, laterais, portas, para-lamas finalizando por onde há maior acúmulo de sujeira, as partes inferiores.
- (B) Lavar o carro com a lataria quente e para lavar as rodas e os pneus deve-se primeiramente retirar toda a poeira depositada sobre o carro, usando água e detergentes derivados de petróleo, lavando de preferência sob o sol.
- (C) Para a limpeza do painel, utilizar um pano macio, e aplicar silicone líquido com uma esponja para dar brilho. Depois de lavado, pode-se proceder ao polimento ou ao enceramento.
- (D) Da mesma forma que no polimento, deve-se iniciar espalhando bem a cera, com uma estopa ou esponja, mas dessa vez com movimentos circulares. Para finalizar, passar uma flanela seca e limpa para dar brilho.
- (E) A limpeza deve ser feita com materiais que não danifiquem a pintura e com utilização consciente de água.

39) Acidente de trânsito é todo evento danoso que envolva o veículo, a via, o homem e/ou animais e para caracterizar-se, é necessário à presença de dois desses fatores. Hipoteticamente ao presenciar um acidente em que após colidir com um poste, o condutor foi lançado para fora do veículo e ficou desacordado. Nesse caso, você como socorrista deverá:

- (A) Sinalizar o local, verificar os sinais vitais e providenciar socorro.
- (B) Movimentar os membros superiores, analisando possíveis fraturas.



- (C) Virar a vítima de lado, se estiver de frente, e comprimir a região do pescoço.
- (D) Verificar os sinais vitais da vítima e colocá-la sentada para reanimar.
- (E) Estancar o sangramento com quaisquer meios que lhe estejam disponíveis, mesmo que o socorrista não tenha qualquer tipo de conhecimento técnico.

40) De acordo com o **Art. 280** do Código de Trânsito Brasileiro, ocorrendo infração prevista na legislação de trânsito, lavrar-se-á auto de infração, do qual constará:

- I. Tipificação da infração;
- II. Local, data e hora do cometimento da infração;
- III. Caracteres da placa de identificação do veículo, sua marca e espécie, e outros elementos julgados necessários à sua identificação;
- IV. O prontuário do autuador, de forma permanente;
- V. Identificação do órgão ou entidade e da autoridade ou agente autuador ou equipamento que comprovar a infração;
- VI. Assinatura do autuador, sempre que possível, valendo esta como notificação do cometimento da infração.

Analisando as afirmações acima podemos concluir que:

- (A) Todas estão corretas
- (B) Apenas I, II, III e IV estão corretas.
- (C) Apenas I, II, III e V estão corretas.
- (D) Apenas IV, V e VI estão corretas
- (E) Todas estão incorretas.